

## 一年级数学科期中测试卷 (B)

内容包括: 至第一册练习十三

题次	一	二	三	四	五	六	七	评分
评分								

## 一、看图写数, 再比一比。(10分)



把上面的数按从小到大的顺序排一排:

( ) &lt; ( ) &lt; ( ) &lt; ( ) &lt; ( )

## 二、填空。(每空1分, 共32分)

1、8的相邻数是( )和( )。

2、6前面的第3个数是( ), 7后面的第3个数是( )。

3、比3大比7小的数有( )个。

4、

	7		5				
--	---	--	---	--	--	--	--

5、在○里填上“&gt;”“&lt;”或“=”

$10-8 \bigcirc 2+0$

$10-4 \bigcirc 9-4$

$6-2 \bigcirc 9-2$

$7+2 \bigcirc 7+3$

$1+9 \bigcirc 10+0$

$4+4 \bigcirc 8+1$

6、在( )里填上合适的数。

$( ) + 6 = 8$

$( ) + 4 = 9$

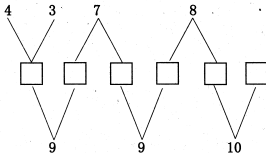
$( ) + 2 = 7$

$3 + ( ) = 7$

$7 + ( ) = 10$

$6 + ( ) = 10$

7、



## 三、看图, 圈一圈。(10分)


在 的(上、下)面。

在 的(上、下)面。

在 的(左、右)边。

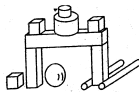
在 的(左、右)边。

的上面是( )。



## 四、数一数, 填一填。(12分)

1、



长方体有( )个, 正方体有

( )个。球有( )个, 圆柱有

( )个。

2、



( ) 个



( ) 个

# 五、计算。(12+5=17 分)

1、直接写出得数。

$9-6=$        $7+3=$        $9-8=$        $8+2=$

$2+7=$        $10+0=$        $4+4=$        $5+4=$

$0+8=$        $10-8=$        $8-5=$        $8-0=$

2、排一排。

$8-1$        $10+0$        $9-9$        $5+0$        $4+2$

\_\_\_\_\_ > \_\_\_\_\_ > \_\_\_\_\_ > \_\_\_\_\_ > \_\_\_\_\_

# 六、看图列式计算。(4+3+3=10 分)

(1)



$\square + \square = \square$        $\square - \square = \square$

$\square + \square = \square$        $\square - \square = \square$

(2)



$\square \bigcirc \square = \square$  (个)

(3)



$\square \bigcirc \square = \square$  (个)

# 七、解决问题。(4+5=9 分)

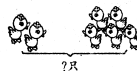
1、一共有 10 只小鸟。



小房子里还剩几只小鸟?

$\square \bigcirc \square = \square$  (只)

2、



左边有  $\square$  只, 右边有  $\square$  只。一共有几只?

$\square \bigcirc \square = \square$  (只)